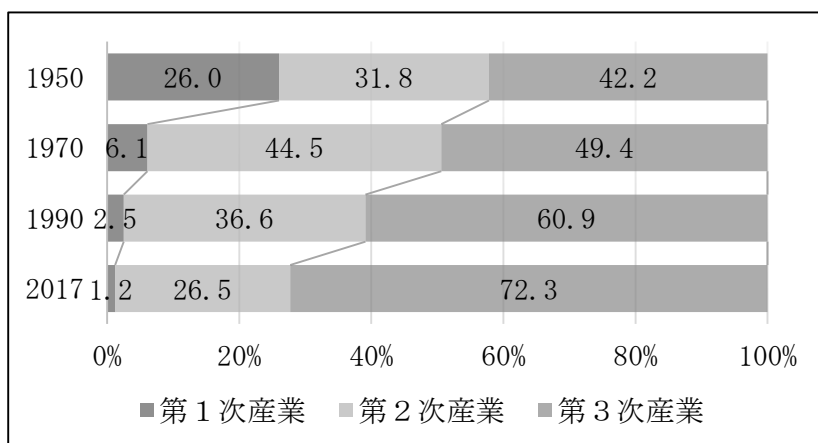


1 次の文章と資料1から5を読み、あとの問いに答えなさい。

日本には現在、1万7000種類以上の職業があると言われています。職業は時代とともに変化しており、中には姿を消していった職業もあります。例えば電話交換手こうかんです。昔の電話は受話器を上げると直接通信会社につながり、そこで電話交換手が手動で、電話をかけたい相手につないでいました。しかし、電話の利用者が増えたことで自動交換機が発明され、電話交換手は姿を消していきました。このように、技術の進化や人々が求めるものの変化によって①産業構造は変化していくのです。

産業構造の変化に対して日本の企業は様々な努力きぎょうを行っています。例として、海外に工場をつくり、その国の労働者をやとって生産を行う②現地生産こしょうがあります。これによって進出した企業や、進出先の国内に様々なメリットがある一方、日本国内では雇用が失われ、税収が減る③産業の空洞化こしょうが起きています。

資料1 産業別就業者数の割合の変化



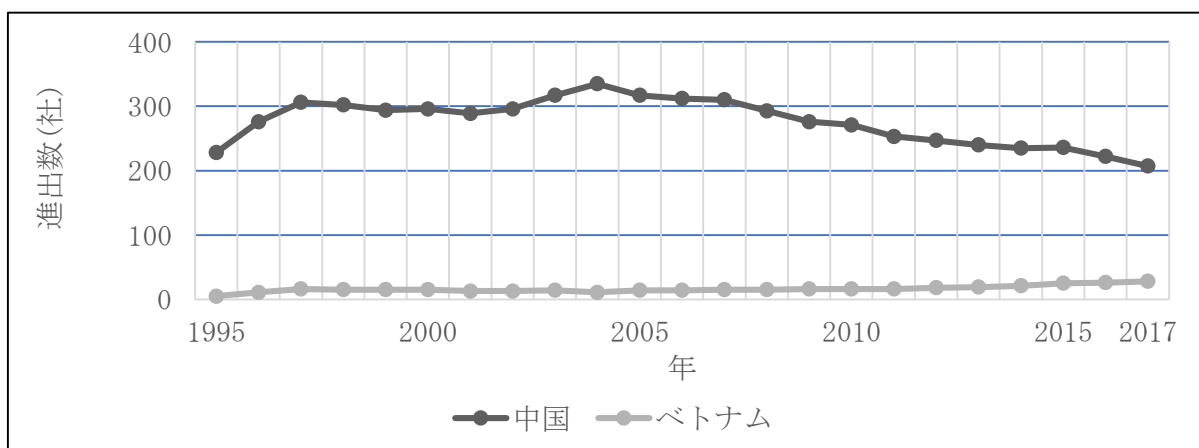
資料2 日本の就業者数の推移

年	就業者数 (万人)
1950	3,574
1970	5,094
1990	6,249
2017	6,530

(総務省統計局「労働力調査」より作成)

(『数字でみる日本の100年』より作成)

資料3 日本企業の進出数の合計 (せんい・衣服製造業)



(経済産業省「海外事業活動基本調査」より作成)

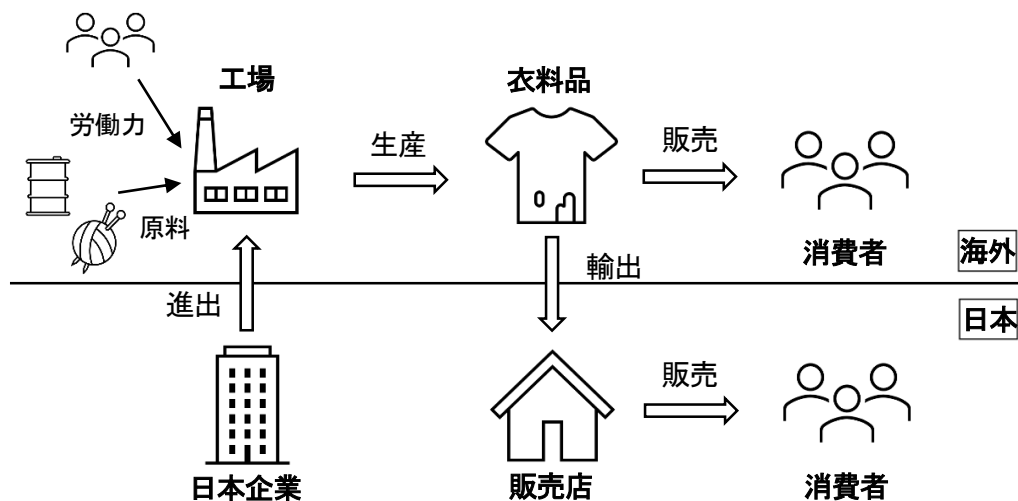
資料4 一人あたりの国民総所得（その国に住む人々の1年間の収入の平均）

	1980年	1990年	2000年	2010年	2017年
日本	9,389	25,355	38,874	45,490	39,531
中国	328	351	929	4,428	8,656
ベトナム	43	89	385	1,368	2,187

単位：ドル

(国際連合ホームページより作成)

資料5 海外進出した日本企業の衣料品が私たちのもとに届くまで



問1 文章中の下線部①について、次の資料6を読み、以下の問いに答えなさい。

資料6

第1次産業 自然に直接はたらきかけ、資源を得る産業
 第2次産業 自然から得られた材料を加工する産業
 第3次産業 ものの生産に直接かかわらない産業

(1) 第1次産業から第3次産業それぞれにあてはまる具体的な仕事内容の組み合わせとして、最も適当なものを次のアからエまでの中から1つ選び、記号で答えなさい。

	第1次産業	第2次産業	第3次産業
ア	住宅や橋などの建設を行う	鉄や金などの地下資源を ^{はっくつ} 発掘する	テレビに出演してニュースを読み上げる
イ	学校で子どもに教科を教える	森林を育てて木材を得る	人やものを車や飛行機で輸送する
ウ	魚介類をつかまえたり ^{ようしよく} 養殖したりする	工場で大形の機械を使って菓子を作る	プロ野球チームに所属して試合に出場する
エ	土地を耕して野菜や果物をさいばいする	国会で新たな法律について議論する	金属を加工するための機械を製作する

(2) 資料1と資料2をもとに産業について述べた文章として、正しいものを次のアからエまでの中から2つ選び、記号で答えなさい。

- ア 1950年の第1次産業の就業者数と、2017年の第2次産業の就業者数はほぼ同数である。
- イ 1970年の第1次産業の就業者数は約3000万人である。
- ウ 石油危機の前と後を比べると、第2次産業の就業者数の割合が減少している。
- エ 第3次産業の就業者数の割合は年々増加している。

問2 文章中の下線部②について、資料3から5をもとに、以下の問いに答えなさい。

- (1) 日本企業の中国への進出数が減少している理由を、考えて答えなさい。
- (2) 日本企業は、どのような条件の国々に進出していると考えられますか。2つ考えて答えなさい。

問3 文章中の下線部③について、産業の空どう化の対策として6次産業化があげられます。以下の事例のような取り組みが広がれば、日本国内での新たな雇用や税収の増加が期待できます。では、6次産業化とはどのようなものであるかを、事例を参考に答えなさい。

6次産業化の事例

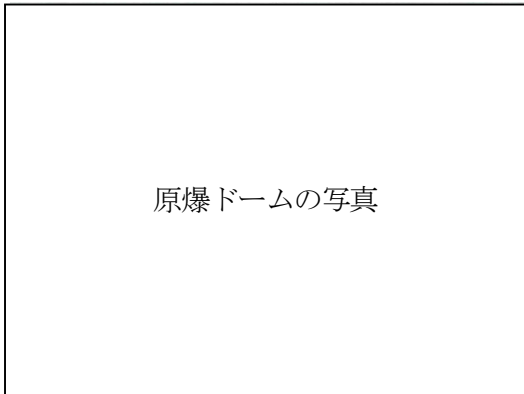
愛知県豊橋市の養鶏農家ようけいがオリジナルブランドの卵を生産し、プリンやたまごサンドに加工したものをキッチンカーやWebサイトで直接消費者ほんばいに販売した。

(農林水産省ホームページより作成)

白紙のページ

2 次の資料1から4はそれぞれ、日本が経験した4つの戦いA, B, C, Dに関するものです。
資料を読み、あとの問いに答えなさい。

資料1 Aの戦いに関する資料



資料2 Bの戦いに関する資料

戦いの主な参加者

西軍		東軍
毛利輝元	総大将	(X)
石田三成 宇喜多秀家 小西行長	武将	黒田長政 井伊直政 福島正則

資料3 Cの戦いに関する資料

- ・ロシアは韓国を日本の勢力のもとに置くことを認める。
- ・ロシアは日本に樺太からふとの南部と満州の鉄道をゆずる。

資料4 Dの戦いに関する資料

(天皇は) 徳川慶喜がこれまで任せられていた大権を返上し、また将軍職をやめることについて許可された。…今後は摂政せつしょう・関白や幕府などを廃止はいしし、…国の政治を行うことにした。

問1 AからDの戦いを古い順に並びかえたとき、3番目になるものを次のアからエまでの中から1つ選び、記号で答えなさい。

ア Aの戦い イ Bの戦い ウ Cの戦い エ Dの戦い

問2 資料2の (X) にあてはまる人物名を答えなさい。

問3 資料3は、戦争を終結させるため、戦った国同士で結んだ講和条約です。この条約と同じ意味合いをもつ条約として最も適当なものを次のアからエまでの中から1つ選び、記号で答えなさい。

ア

- ・日本は下田、函館ほこだてのほか、神奈川、長崎、新潟、兵庫を開港する。
- ・日本に輸出入する品にかかる関税は日本とアメリカで協議して決める。

イ

- ・日本はドイツとイタリアのヨーロッパでの行動を尊重する。
- ・ドイツとイタリアは日本のアジアでの行動を尊重する。

ウ

- ・日本がイギリスに認めている領事裁判権をなくし、裁判権は日本の裁判所がもつこととする。

エ

- ・清は日本にばいしょう金2億両(テール)を支払う。
- ・清は日本にリャオトン半島、台湾などをあたえる。

問4 次の文章は、資料4によって日本の政治がどのように変化したかについて説明したものです。(①), (②) にあてはまる語句をそれぞれ答えなさい。

これは政治の主体が (①) から (②) にかわることを宣言したものです。

問5 次の絵は、明治42（1909）年にえがかれた^{ふうしが}風刺画で、死後の世界で豊臣秀吉と伊藤博文があく手をしている様子です。作者はこの絵でどのような歴史的なできごとを伝えていますか。資料5、6をもとに考えて答えなさい。

※風刺画：社会や人物を遠回しに批判する目的でえがかれた絵



資料5 豊臣秀吉の年表

1537	今の愛知県に生まれる
1554	織田信長に仕える
1582	明智光秀をやぶる 太閤検地の開始
1588	刀狩令の発布
1597	朝鮮出兵
1598	死去

資料6 伊藤博文が行ったこと

初代総理大臣をはじめ、4度の総理大臣を経験し、内閣制度や憲法を作るときに中心人物としてかかわるなど、明治以降の日本をつくった人物といえる。また、朝鮮を植民地にするために日本の代表として交しようし、朝鮮を治めるための機関の初代長官となったが、その4年後に朝鮮の若者に暗殺された。

白紙のページ

3 次の資料は、国会議員を決める選挙での年代別の投票率をまとめたデータです。資料を読み、あとの問いに答えなさい。

年代	10代・ 20代	30代	40代	50代	60代	70代	80代 以上
投票率 (%)	35%	44%	58%	63%	72%	72%	46%

(平成 29 年 10 月 22 日衆議院議員総選挙の結果 総務省ホームページより作成)

問 1 選挙は私たちに保障されている基本的人権のうち、どのような権利を守るために行われま
すか。最も適当なものを次のアからエまでの中から 1 つ選び、記号で答えなさい。

- ア 政治に参加する権利
- イ 仕事について働く権利
- ウ 自由に学んだり考えたりする権利
- エ 教育を受ける権利

問 2 この選挙に立候補し、当選するためにはどのような人々に向けて、どのような政策をかかげ
るとよいと思いますか。上のデータをもとに考えて答えなさい。

問 3 下の資料は、令和 3 年 10 月 31 日に行われた国会議員を決める選挙の結果です。このよう
に、日本では有権者数や投票率で男女に大きな差はありませんが、実際に直接政治に関わる
国会議員の女性の割合は低くなっています。このことは日本に住む若い世代の女性にとって
どのような不利益があるといえますか。考えて答えなさい。

	有権者数 (人)	国会議員を決める選挙 での投票率 (%)	国会議員に占める男性と 女性の割合 (%)
男性	50,891,954	56.06	90.3
女性	54,428,569	55.80	9.7

(総務省ホームページより作成)

白紙のページ