

1 次のⅠとⅡの文章を読んで、あとの(1)から(6)までの問いに答えなさい。

Ⅰ 各時代について

- | | |
|---|---|
| あ | 縄文時代：狩猟・採集・漁労を中心とした生活を送っていた。 |
| い | 弥生時代：大陸・半島から金属製品が伝わった。また、稲作が盛んになった。 |
| う | 古墳時代：九州を中心に巨大な前方後円墳が築造され、日本列島の大部分が政治的に統一された。 |
| え | 飛鳥時代：中国から仏教を導入し、その影響で日本各地に神社が建築された。 |
| お | 奈良時代：律令を整備し、天皇を中心とした国づくりが進められ、平城京などの都が造られた。 |
| か | 平安時代：この時代の後半期に、源氏や平氏などの武士が台頭し、保元・平治の乱などが起きた。 |
| き | 鎌倉時代：空海の真言宗、最澄の天台宗など、新しい仏教が民衆に広がった。 |
| く | 室町時代：将軍家の世継ぎ問題をめぐって、京都の都を舞台に応仁の乱と呼ばれる戦いが起こった。 |
| け | 安土桃山時代：豊臣秀吉は関ヶ原の戦いで徳川家康との戦いに勝利し、天下統一を成し遂げた。 |
| こ | 江戸時代：徳川吉宗が幕府財政の再建のために、享保の改革を実施した。 |
| さ | 明治時代：近代国家に向けて整備が進み、普通選挙法が施行された。 |
| し | 大正時代：第一次世界大戦に連合国側で参戦し、アジアでの利権拡大に成功した。 |
| す | 昭和時代：冷戦期、アメリカ、ソ連の庇護の下、経済発展を遂げた。 |

Ⅱ 2018年から2019年にかけて、各地で行われた周年事業

- | | |
|------|---|
| 鳥取県 | 大山開山 1300 年祭…大山寺開創 1300 年を記念した「大山開山 1300 年祭」を展開 |
| 兵庫県 | 尼崎城築城 400 年…尼崎城の再建事業 |
| フランス | 日仏交流 160 周年記念事業 |
| 北海道 | 北海道 150 年事業…北海道命名 150 年目 |
| ブラジル | 日本移民 110 周年 |
| アメリカ | 月面着陸から 50 周年 |
| 日本 | 平成改元 30 周年 |
| 欧州 | ユーロ導入から 20 周年 |

Ⅲ 大山周辺の地形図



地理院地図から作成した地形図

(1) Iの文章^あから^すは、我が国の各時代に関する内容であるが、適当でないものも含まれている。適当でないものを^あから^すまでの中から全て選ぶ時、その組み合わせとして最も適当なものを、次のアからオまでの中から選んで、そのかな符号を書きなさい。

ア え, け, す イ う, こ, さ ウ え, き, け, さ
エ か, き, け, こ, す オ う, え, き, け, さ, す

(2) IIの下線部大山寺開創, 尼崎城築城, 北海道命名それぞれの年代に起こった出来事の組み合わせとして最も適当なものを、次のアからエまでの中から選んで、そのかな符号を書きなさい。

ア 大山寺開創—『古事記』や『日本書紀』が編さんされた。

尼崎城築城—武家諸法度が制定された。

北海道命名—大名が領地と領民を天皇に返還した。

イ 大山寺開創—藤原氏が摂政・関白として実権を握った。

尼崎城築城—承久の乱がおこり、京都に六波羅探題がおかれた。

北海道命名—第一次世界大戦がおこった。

ウ 大山寺開創—平城京に遷都された。

尼崎城築城—松平定信が寛政の改革を行った。

北海道命名—満州事変が起こった。

エ 大山寺開創—平等院鳳凰堂がつくられた。

尼崎城築城—豊臣家が滅亡した。

北海道命名—ペリーが浦賀に来航した。

(3) 大山は中国地方最高峰である。大山の登山コースとして、おもに夏山登山道が利用されている。この夏山登山道について、IIIの地形図から読み取ることができる内容について述べた文として最も適当なものを、次のアからエまでの中から選んで、そのかな符号を書きなさい。

ア 夏山登山道は、ふもとの大山寺から山頂まで往復6時間程度である。

イ 夏山登山道は、高低差100m程度の上り下りを繰り返して山頂まで至る、大変険しい道である。

ウ 夏山登山道のY地点(ダイセンキョロボク純林)付近は、登山道も緩やかになっている。

エ 夏山登山道のX地点(避難小屋)付近は、登山道がもっとも緩やかで歩きやすい。

(4) Iの[か], [き], [く], [こ]の時代について次のアからエの絵とその説明として最も適当なものを, アからエまでの中から選んで, そのかな符号を書きなさい。

ア [か]の時代の貴族と仏教勢力が話し合いをしている場面を描いたものである。薙^{なぎなた}刀を持った男たちが貴族に圧力をかけていることが読み取れる。

イ [き]の時代に倭寇討伐のために, 武士達が倭寇の船に乗り込んで戦っている場面を描いたものである。



ウ [く]の時代, 百姓一揆により貴族の邸宅が略奪の被害にあっている場面を描いている。馬に乗った武士が取り締まりにあっている。

エ [こ]の時代に民衆に人気のあった能の舞台を描いたものである。この時代は町人文化が開花した時代であった。



(5) 下の家系図はIの^えと^かの時代に活躍した蘇我氏と藤原氏に関するものである。両氏族が権勢を振るえた理由の一つとして、それぞれ共通のことを行っていたことが考えられるが、それは何か。下の家系図から読み取って簡潔に答えなさい。○は表中の天皇即位順位を表す。

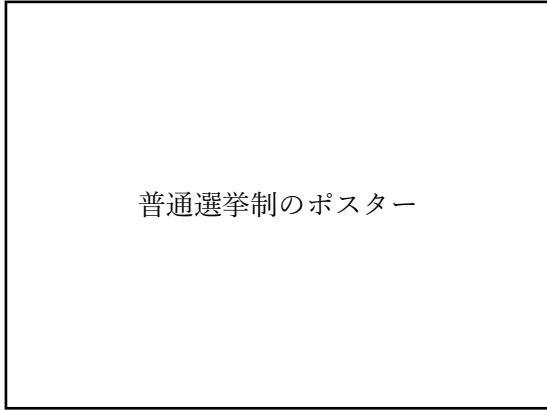


(6) Iの^すの下線部、冷戦に関するものとして最も適当なものを、次のアからエまでの中から選んで、そのかな符号を書きなさい。

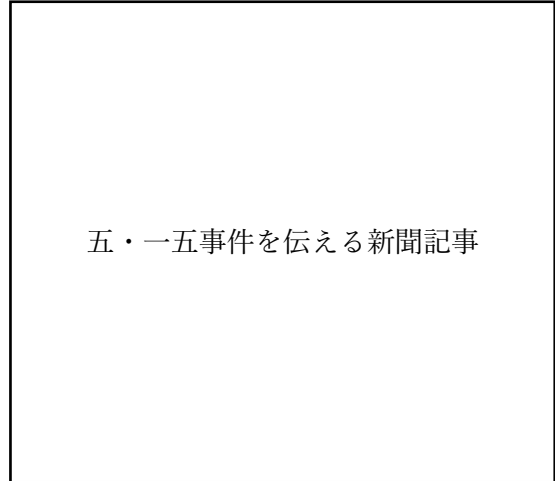
- ア ベトナムが東西に分かれて戦争がおこなわれた。
- イ アメリカがアフガニスタンに侵攻した。
- ウ ドイツ全土を東西に分断していたベルリンの壁が1989年に取り壊された。
- エ 西側陣営は資本主義国家で、東側陣営は社会主義国家であった。

2 次の I, II の資料をみて, あとの (1) から (2) までの問いに答えなさい。

I



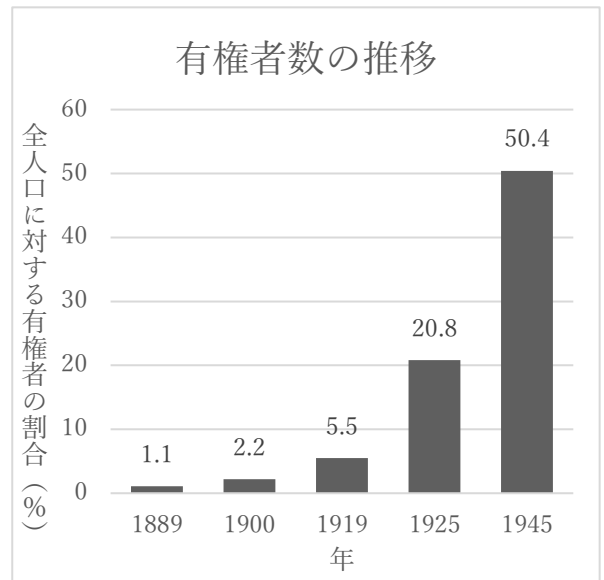
II



(1) 次の文章は, I の資料についてのものである。(A) から (C) に入る数字と文章として最も適当な組み合わせのものを **ア** から **ク** の中から選んで, そのかな符号を書きなさい。

右の表によると, 普通選挙法の制定によって, 全人口に占める有権者数の割合は約 (A) 倍になったことがわかる。これはこの法律で (B) からだ。また, この法律の制定と同年, 共産主義者を取り締まる目的から (C) が制定された。

	A	B	C
ア	2.4	女性が選挙権を獲得した	治安警察法
イ	2.4	女性が選挙権を獲得した	治安維持法
ウ	2.4	財産制限がなくなった	治安警察法
エ	2.4	財産制限がなくなった	治安維持法
オ	3.8	女性が選挙権を獲得した	治安警察法
カ	3.8	女性が選挙権を獲得した	治安維持法
キ	3.8	財産制限がなくなった	治安警察法
ク	3.8	財産制限がなくなった	治安維持法



(2) 次の **ア** から **エ** までの文は, II の記事で報じられている五・一五事件前後の日本の外交に関して述べたものである。 **ア** から **エ** までの文を古い年代順に並べた時, 3 番目になるもののかな符号を書きなさい。

- ア** 日本軍はハワイの真珠湾を奇襲攻撃した。
- イ** 日ソ共同宣言によってソ連との国交が回復した。
- ウ** 国際連盟から脱退した。
- エ** 中国に対して二十一か条の要求を示し, 大部分を認めさせた。

3 次のⅠの表は、九州地方の7県の面積等を示したものである。またⅡの表は農産物の生産量を示したものである。あとの(1)から(4)までの問いに答えなさい。なお、ⅠとⅡの表中のA, B, C, D, Eは、福岡県, 長崎県, 熊本県, 宮崎県, 鹿児島県のいずれかである。

Ⅰ 7県の面積, 海岸線, 製造品出荷額, 県庁所在地人口

「第六十七回 日本統計年鑑 平成30年」などから作成したグラフ

Ⅱ 農産物生産量の上位5道府県

「第91次農林水産省統計表」などから作成したグラフ

(1) 表中のDにあたる地域で起こったできごとについて述べた文として最も適当なものを, 次のアからエまでの中から選んで, そのかな符号を書きなさい。

- ア 出島が江戸時代に, オランダや中国との唯一の貿易の窓口になった。
- イ 水俣湾で水俣病が発生し, 深刻な被害を生んだ。
- ウ 大宰府が置かれ, 唐や新羅との外交や防衛にあたった。
- エ ポルトガル人が種子島に流れ着き, 鉄砲が伝来した。

(2) Eの県にある阿蘇山と北海道の有珠山うすざんは似た性質を持っている。市邨高校では本年度に実施された修学旅行の日程に洞爺湖有珠山ジオパークの見学が組み込まれていた。洞爺湖有珠山ジオパークについて述べた文として最も適当なものを、次のアからエまでの中から選んで、そのかな符号を書きなさい。

- ア ジオパークとは、遊園地のように大型の遊具が設置されて遊ぶことができる施設である。
- イ 洞爺湖有珠山ジオパークはカルデラを有している。カルデラとは富士山のような円錐形の山のことである。
- ウ 有珠山は、30年ごとに噴火が続くが、2000年の噴火では、死者が出なかった。
- エ 有珠山付近は観光が盛んなため、観光マップであるハザードマップが公開されている。

(3) 日本は山がちな地形であるため、日本の河川には外国の河川と異なる特徴がある。表は九州にある球磨川くまがわとナイル川、セーヌ川の水源の河口からの距離と標高を示したものである。日本の川の特徴を考えて球磨川を表したものとして適切なものを、表のアからウの中から選んで、そのかな符号を書きなさい。

河川名	河口からの距離 (km)	標高 (m)
ア	367	2,475
イ	115	1,489
ウ	6,650	1,134

(国土交通省HPなどから作成)

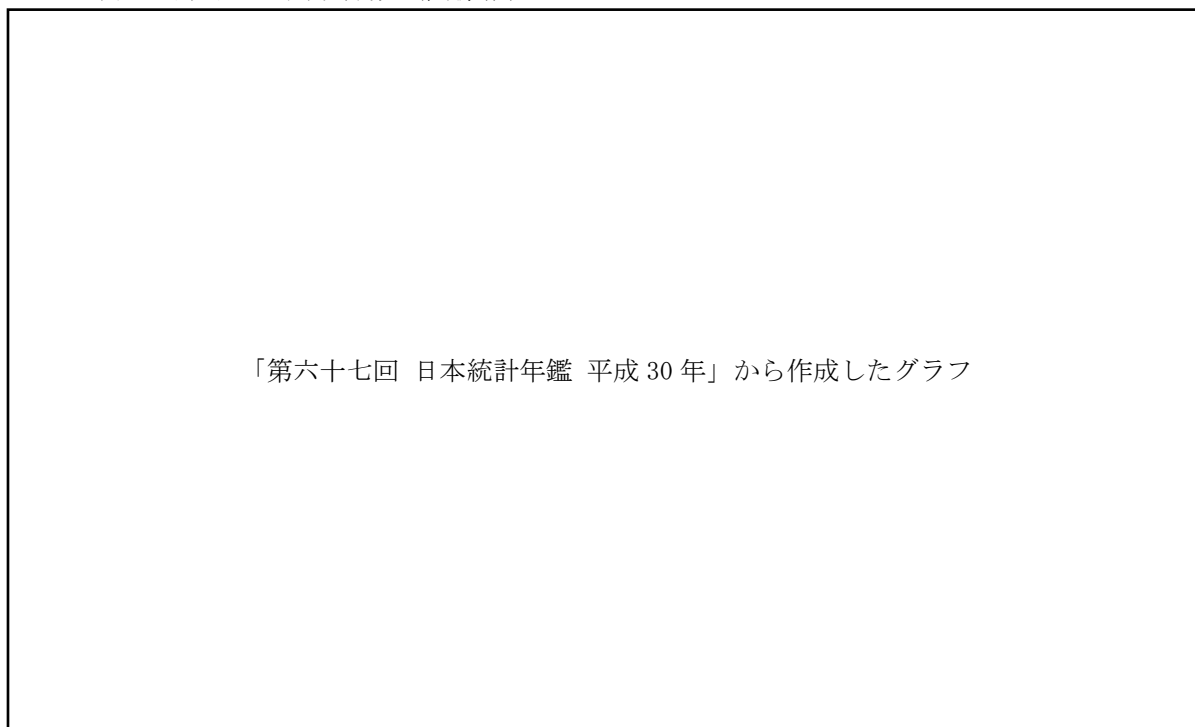
(4) 次のグラフは大分県の人口の推移を表したものである。このグラフから読み取れることとして最も適当なものを、次のアからエまでの中から選んで、そのかな符号を書きなさい。

「第六十七回 日本統計年鑑 平成 30 年」から作成したグラフ

- ア 1920 年から 2015 年までの 95 年間で人口は 2 倍以上に増えた。
- イ 1985 年をピークに、人口は増加から減少に転じている。
- ウ 農村部で過疎化が進んで、耕作放棄地が増えた。
- エ 第二次世界大戦の終戦後は人口が急増している。

4 次のⅠのグラフは、日本人の外国への出願件数を商標権に関して示したものであり、Ⅱの表はⅠのグラフ中のA、B、C、Dの4国の特徴をまとめたものである。ⅢのX、Y、Z、Vの表は、Ⅰのグラフ中のA、B、C、Dのいずれかの国から日本の輸入額上位5品目と輸入額全体に占める割合を示したものである。あとの(1)から(3)までの問いに答えなさい。

Ⅰ 日本人の海外への出願件数（商標権）



Ⅱ 4国の特徴

A	A S E A N加盟の1つ。大小様々な島から形成されている国家で、多くの人がイスラム教を信仰している。昨年夏に第18回アジア競技大会が開催された。
B	B R I C Sの1つ。アマゾン川流域での熱帯雨林の減少が、先住民の生活に影響を与えている。開発と環境保全の両立をはかって、持続可能な発展を目指している。
C	O P E C加盟国の1つ。ドバイやアブダビでは資源が枯渇することにそなえて、リゾート地として発展することを目指している。また、海外からの外国人労働者が多いのも特徴である。
D	B R I C Sの1つ。アパルトヘイトとよばれる人種隔離政策がとられていたが、長年の反対運動の結果廃止された。反対運動をすすめたマンデラ氏が初の黒人大統領となった。2010年にはサッカーワールドカップが開催された。

Ⅲ 日本の輸入額上位 5 品目と輸入額全体に占める割合 (2016 年)

X		Y	
品目	割合 (%)	品目	割合 (%)
原油	74.7%	金属鉱と金属くず	14.8%
液化天然ガス	9.9%	液化天然ガス	14.2%
揮発油	7.5%	石炭	12.3%
液化石油ガス	4.2%	電気機器	7.4%
アルミニウム及び アルミニウム合金	2.9%	衣類と同付属品	5.1%
Z		V	
品目	割合 (%)	品目	割合 (%)
白金	29.0%	鉄鉱石	32.8%
パラジウム	14.3%	鶏肉	11.5%
乗用車	12.6%	飼料用とうもろこし	9.7%
鉄鉱石	7.1%	コーヒー豆	6.4%
合金鉄	6.9%	有機化合物	6.1%

(1) 世界はアジア州, アフリカ州, オセアニア州, 北アメリカ州, 南アメリカ州, ヨーロッパ州の 6 つの州に分けることができる。日本の中部地方は気候区分では温帯に属する。日本と同じ州かつ同じく温帯気候に属する地域を領土に持つ国が, A, B, C, D のうち何か国あるか数字で書きなさい。

(2) Ⅲの X, Y, Z, V の表のうち, I の表中の C の国からの日本の輸入上位 5 品目と輸入額全体に占める割合を示したものはどれか書きなさい。

(3) 次の地図は東京を中心としており，中心からの距離と方位が正しい。中心からある場所までの直線を引くと，その場所までの最短距離となる。Ⅱの表のDの国に向けて東京から最短経路で移動したとき，通過する可能性がない国の組み合わせとして最も適当なものを，次のアからエまでの中から選んで，そのかな符号を書きなさい。

- ア 中華人民共和国，アメリカ合衆国
- イ インド，タイ
- ウ ロシア，アメリカ合衆国
- エ メキシコ，スリランカ



5 次の文章を読み、あとの(1)から(3)までの問いに答えなさい。

皆さんが受験している名古屋経済大学市邨高校は、明治40年に、教育者の市邨芳樹先生が「名古屋女子商業学校」を設立したことに起源があります。日本初の本格的な女子商業教育の実践を始められたのです。

ここでは、「商業」という言葉を考えてみましょう。商品は①企業や農家など生産者が生産し、卸売市場を経て、スーパーマーケットやデパートなどの小売店へ渡り、私たち消費者がそれらの小売店で購入することになります。生産者から消費者へ商品が届くまでの流れを流通と呼びます。商業とは流通に携わる様々な②仕事を指す言葉です。

現在、市邨高校に商業科はありませんが、普通科キャリアデザインコースでは、他の商業高校で学ぶ専門的な商業の授業が多数あります。また、特進コース、文理コースには商業の授業こそありませんが、市邨芳樹先生の精神に根付いた教育が行われています。例えば市邨芳樹先生が、学園を創立するにあたり掲げた考えのひとつに「一に人物、二に伎倆ぎりょう（技能のこと）」という言葉があります。これは、③知識や技能を身につけることはもちろん、それ以前に、人間性を高めることが必要であるということです。この考え方は市邨高校の特進、文理、キャリアデザインのすべてのコースで、そしてさらには学園全体で共有されている理念なのです。

(1) 下線部①について、企業は様々な財・サービスを提供するが、ある商品の販売元（供給元）が一つの企業に限られてしまうようなことが生じたとする。これは消費者にとってどのような点が不利になるか。考えて簡潔に説明しなさい。

(2) 下線部②について、下の求人広告で違法である部分を指摘しなさい。

正社員募集
【男子】事務職（大学卒業）
（年齢）22歳～45歳
（待遇）給料20万円以上
【女子】事務補助職（高校卒業）
（年齢）18歳～35歳
（待遇）給料15万円以上
（条件）女子は未婚者で自宅通勤に限る
○時間 9時～17時30分
○休日 日曜・祝日

(3) 下線部③について、昨今では商業の技術を身につけたが、消費者に不利を与えてでも儲けようとする悪質商法と呼ばれる問題が生じている。これは「一に人物」が欠けている例であるといえるが、この悪質商法に該当するものを次のアからエの中からすべて選んで、そのかな符号を書きなさい。また、適当なもの一つもない場合は、オを書きなさい。

- ア ある日の17時にスーパーマーケットで、「表示価格より30%引き」というシールが貼られた弁当を購入したが、パッケージの記載を見ると、消費期限がその日の18時までだった。
- イ 街中で健康食品に関するアンケートと声をかけられたので応じると、営業所や事務所へ誘導されて、商品の購入や有料会員登録などを勧められた。
- ウ インターネット上で気になる記事があったので読み進めると、「この続きを読むには有料会員登録が必要です。会員登録手続きをされる方は以下をクリックして登録を行ってください。」と表示されたので、続きを読むために有料会員に登録した。
- エ 「以前応募されたジュエリーセットの懸賞に当選しました。展示場まで受け取りに来てください。」と電話があり、受け取りに行くと、他の高額な宝石などを勧められ購入することになった。

6 次のⅠの文章とⅡの資料をみて、あとの(1)から(4)までの問いに答えなさい。

Ⅰ

2018年は平昌オリンピック開催され、また高校野球は100回記念の年でした。8月には第18回アジア競技大会も開催され、スポーツが盛り上がった年でした。2020年には東京オリンピックが開催されます。世界の選手たちが一同に集う祭典は平和の象徴とも言えます。高校野球が開始された1915年は第一次世界大戦中でした。①国際平和を願い、1920年に国際連盟が設立され、1945年には国際連合が設立されました。しかし、平和な世界はおとずれませんでした。②21世紀の現在も、地域紛争やテロ、貧困や飢餓、人権侵害など人間の生命と尊厳が脅かされています。これらの問題の中には、③環境問題のように、地球規模の問題として国境を越えて、人間の生存にとって大きな脅威となっているものがあります。

このような状況の中、2015年9月の国際連合サミットで「SDGs」が採択されました。SDGsとは「Sustainable Development Goals(持続可能な開発目標)」の略称です。国連加盟国が2016年から2030年の15年間で達成するために掲げた目標です。日本政府も、この目標達成に向けて協力を示す意向を示しています。

Ⅱ Ⅰの下線部③、国内外の環境に関する様々なできごとをまとめたもの

1971年 ④ラムサール条約が採択される。
1972年 第一回国連人間環境会議が開かれる。
世界遺産条約が採択される。
1973年 ワシントン条約が採択される。
1992年 国連環境開発会議が開かれる。
1993年 環境基本法が制定される。
1997年 環境影響評価法が制定される。
地球温暖化防止京都会議が開かれ、京都議定書が採択される。
2000年 ⑤循環型社会形成推進基本法が制定される。

(1) 下線部①について述べた文章アからエのうち、最も適当なものを一つ選んで、そのかな符号を書きなさい。

- ア 国際連盟の本部はジュネーブにあり、イギリス・フランス・イタリア・日本が常任理事国となった。経済制裁のほか、軍事制裁も可能であり、第二次世界大戦の勃発を遅らせることができた。
- イ 国際連盟は国際紛争を平和的に解決する世界初の組織であり、アメリカ大統領ウィルソンの提案をもとに設立されたため、アメリカが加盟国の中心となっており、本部はニューヨークに置かれた。
- ウ 国際連盟の本部はニューヨークに置かれ、安全保障理事会の常任理事国はアメリカ・イギリス・フランス・ロシア・中国である。経済制裁のほか、軍事制裁も可能である。
- エ 国際連盟の本部はジュネーブに置かれ、安全保障理事会の常任理事国であるアメリカ・イギリス・フランス・ロシア・中国は拒否権を行使することができるが、今まで拒否権が行使されたことはない。

(2) 下線部②について述べた文章アからエのうち、最も適当なものを選んで、そのかな符号を書きなさい。

- ア 世界の貧しい地域と、アメリカや日本のように工業化の進んだ豊かな地域との格差とその解消の問題は南南問題と呼ばれている。格差を少しでも縮めるために、各国の政府は経済援助を行っており、日本はODAでは世界トップクラスの支出をおこなっている。
- イ 世界の貧しい地域と、アメリカや日本のように工業化の進んだ豊かな地域との格差とその解消の問題は南南問題と呼ばれている。問題解消のため「トレーサビリティ」という、持続可能な商品を認定し、消費者に選んでもらう仕組みが日本でも導入されている。
- ウ 世界の貧しい地域と、アメリカや日本のように工業化の進んだ豊かな地域との格差とその解消の問題は南北問題と呼ばれている。世界の貧しい地域を救済するために「フェアトレード」という、貧しい国々の産品を適正な価格で輸入したものを、豊かな国々の市場で販売する仕組みが行われている。
- エ 世界の貧しい地域と、アメリカや日本のように工業化の進んだ豊かな地域との格差とその解消の問題は南北問題と呼ばれ、問題解決のためにOPECが設立された。

(3) IIの下線部④について、この条約の内容として最も適当なものをアからエまでの中から選んで、そのかな符号を書きなさい。

- ア 野生動植物が国際取引によって過度に利用されるのを防ぐため、国際協力によって種を保護することを目的としている。
- イ 地球温暖化を改善させるため、世界の平均気温上昇を産業革命以前に比べて2℃より低く保ち、1.5℃に抑える努力を世界共通の目的としている。
- ウ オゾン層保護に関する条約で、オゾン層破壊の原因となるフロンガスの消費規制をすることを目的としている。
- エ 湿地の保存に関する国際条約でのことで、水鳥を食物連鎖の頂点とする湿地の生態系を守ることを目的としている。

(4) IIの下線部⑤について、循環型社会を形成するための行動として、間違っているものを次のアからエまでの中から一つ選んで、そのかな符号を書きなさい。

ア 使用済みペットボトルや発泡スチロールを回収する。

イ エコマークのついている商品は、自分にとって不要なものでも、環境のために積極的にたくさん買う。

ウ 歯を磨くとき、水を出しっぱなしにしない。

エ 買い物をしたとき、不要ならレジ袋をもらわない。

白紙のページ