

Ⅰ 次の2人の生徒の会話文と地図について、あとの(1)から(5)までの問いに答えなさい。

生徒X：授業の復習をしているんだけど、「五畿(畿内)七道」って何のことだっけ。

生徒Y：古代の行政区分とそれに沿って整備された交通路のことだよ。当時、都とその周辺の地域を「A五畿(畿内)」、それ以外を「B七道」に分けたと学んだよ。「七道」は、律令の時代に都と地方を結ぶ大事な交通路や行政区分として整備されたんだよ。

生徒X：なるほど。江戸時代の「C五街道」とはどう違うのかな。

生徒Y：いい質問だね。江戸時代の「五街道」は、江戸を中心に整備された幹線道路のことで、大名の参勤交代や商業活動のために使われたんだよ。

生徒X：たしか、明治時代になると鉄道が登場したんだよ。

生徒Y：1872年に鉄道が開通して、その後は日本全国に鉄道網が広がっていったんだ。鉄道の駅ができると、その周辺に人が集まって商業が発展したんだ。特に東北とか北海道は鉄道の整備で開拓が進んだそうだよ。さらに、D戦後の1950年代から1970年代にかけて、高速道路や新幹線、航空機も発展して、交通は便利になっていったよ。

生徒X：時代によって交通手段は変わるんだね。

生徒Y：そうだね。でも、昔の道路が現在の国道や鉄道に重なっているところも多いよ。なんだか歴史の積み重ねを感じるね。

地図



(1) 下線部A, Bについて, 五畿七道が整備された当時の都があった位置を, 地図中のaからdまでの中から1つ選び, 記号で答えなさい。

(2) 下線部Aについて, 五畿は現在の都道府県にあてはめるとそれぞれの府県にあたるか。その組み合わせとして誤っているものを, 下のアからオまでの中から1つ選び, 記号で答えなさい。

ア 大和国－奈良県

イ 山城国－京都府の一部

ウ 摂津国－大阪府の一部・兵庫県の一部

エ 和泉国－和歌山県

オ 河内国－大阪府の一部

(3) 下線部Bについて, 七道が整備された理由として最も適当なものを, 下のアからエまでの中から選び, 記号で答えなさい。

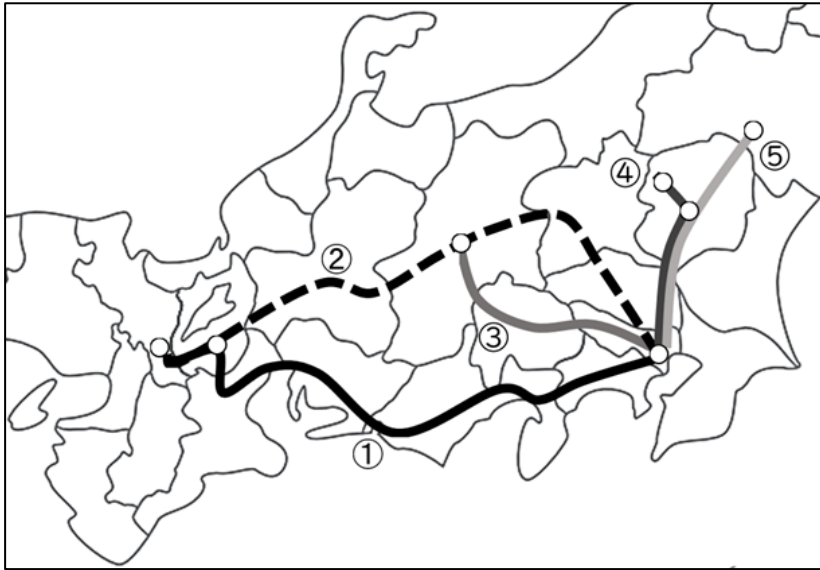
ア 外国との貿易をさかんにして, 経済を発展させるため。

イ 地方の有力豪族が, 独自に国を治めることを認めるため。

ウ 寺院を建立する地域を定め, 仏教を全国に広めるため。

エ 税の徴収を行いやすくし, 中央政府の支配を全国に広げるため。

- (4) 下線部Cについて、次の地図中の①から⑤までの街道に関する説明文として最も適切なものを、あとのアからオまでの中から選び、記号で答えなさい。



- ア ①は東海道で、江戸日本橋から京都三条大橋までを結ぶ海沿いの街道である。街道沿いに 53 の宿場があり、大名の参勤交代にもよく利用された。現在の愛知県・岐阜県・三重県の東海三県を通るルートである。
- イ ②は中山道で、江戸日本橋から京都三条大橋までを結ぶ山沿いの街道である。現在の千葉県・群馬県・長野県・岐阜県・滋賀県を通過する。宿場町であった妻籠宿や馬籠宿は、現在でも観光名所として名高い。
- ウ ③は甲州道中で、甲斐国（現在の山梨県）を通過して下諏訪を経て東海道に合流する街道である。もともとは、軍用道路を目的に整備された。
- エ ④は日光道中で、江戸日本橋から現在の茨城県にある日光東照宮までを結ぶ街道である。将軍家や諸大名が初代将軍徳川家康をまつた日光東照宮を参拝するために整備された。
- オ ⑤は奥州道中で、江戸日本橋から白河（現在の福島県）を経て東北地方へとつなぐ街道である。江戸時代中期には蝦夷地との間の物流も増え、白河は中継地点としても賑わった。
- (5) 下線部Dについて、この時期の交通発展が社会にもたらした影響として最も適切なものを、下のアからエまでの中から選び、記号で答えなさい。

- ア 交通網が発達したことで、都市への人口流出が進み、地方の過疎化が深刻化した。
- イ 飛行機の路線が増えたことで、製品を輸送するコストが下がった。
- ウ 新幹線が登場したことで、仕事や旅行のために飛行機を利用する人が減った。
- エ 高速道路が整備されたことで、地方の工場の多くが都市部に移設された。

白紙のページ

- 2 次の【資料1】から【資料3】までの作品とその説明文について、あとの(1)から(4)までの問いに答えなさい。

【資料1】 秋冬山水図	【資料2】 洛中洛外図（上杉本）
雪舟の「秋冬山水図」	洛中洛外図（上杉本）
雪舟が描いた作品の一つで、秋と冬の自然の対比が描かれている。雪舟は（ ① ）（中国）で絵を学び、（ ② ）。	京都の町の中心部とその周辺の様子を描いた作品であり、当時の人々の暮らしや文化を知ることができる。この作品はある戦国大名が織田信長に贈ったものと伝わっている。
【資料3】 ポッピンを吹く女	
喜多川歌麿の「ポッピンを吹く女」	
喜多川歌麿が描いた風俗画の一つで、女性がポッピンというガラスのおもちゃを吹いて遊んでいる様子が描かれている。歌麿はとくに美人画を描くのが得意だった。	

- (1) 【資料1】の説明文の空欄①，②にあてはまる語句と文として最も適当なものを，下のアからエまでのの中から選び，記号で答えなさい。

	①	②
ア	宋	金箔や銀箔を多く用いた装飾的で華やかな絵を数多く残した
イ	元	日本的な風景や物語を色彩豊かに描いた大和絵を数多く残した
ウ	明	墨の濃淡だけで描く技法に独自の表現を生み出す作風を確立した
エ	清	色の重なりや質感を活かす油絵の技術を日本に伝えた

(2) 【資料2】が描かれた時期に起こった世界の出来事として最も適切なものを、下のアからエまでの中から選び、記号で答えなさい。

- ア チンギス＝ハンがモンゴルを統一する。                      イ ルターが宗教改革を始める。  
ウ アメリカで独立戦争が起こる。                      エ 中国で太平天国の乱が起こる。

(3) 【資料3】が描かれた時期の文化的背景として最も適切なものを、下のアからエまでの中から選び、記号で答えなさい。

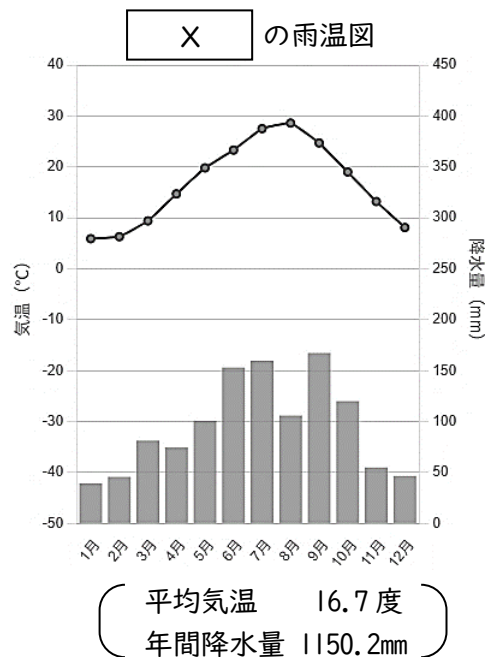
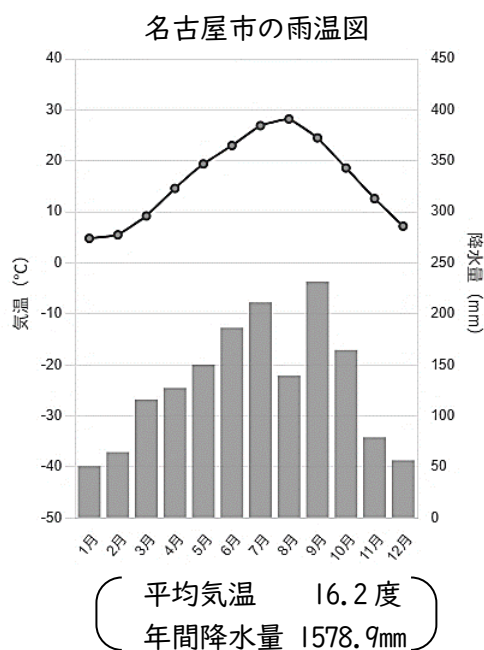
- ア 上皇や貴族を中心に、浄土信仰の影響を受けた仏教的な雰囲気が強い文化。  
イ 禅宗の精神を背景に、簡素で静かな美であるわび、さびを重んじる文化。  
ウ 武将や大名たちの権力や財力を反映した、豪華で壮大な文化。  
エ 主に江戸で一般の町人層に広がった、庶民的で親しみやすい文化。

(4) 次の【資料4】は【資料5】の影響を受けたことが見て取れる。【資料5】が影響を与えるきっかけとなった当時の出来事を、それによって生じた変化とともに 30 字以内（句読点を含む）で説明しなさい。

【資料4】 イワン・ビリービン 『サルタン王物語』挿絵（1905年頃）	【資料5】 葛飾北斎 『富嶽三十六景（神奈川沖浪裏）』（1831年頃）
イワン・ビリービン 『サルタン王物語』挿絵	葛飾北斎 『富嶽三十六景（神奈川沖浪裏）』

3 次の(1)から(3)までの問いに答えなさい。

(1) 次の名古屋市と都市Xの雨温図について、あとの①、②の問いに答えなさい。



(気象庁ホームページより作成)

①名古屋市のような都市では、緑地が少なく建物や人が密集しているために、気温が周辺地域よりも高くなる。このような現象を何というか。解答欄にあてはまる語句をカタカナで書きなさい。

②都市Xはどのような場所にあり、周囲の地形はどのようになっていると考えられるか。最も適当なものを、下のアからエまでの中から選び、記号で答えなさい。

ア 内陸の高原で、標高は約2,000mある。その周囲は南も北も山脈に囲まれている。

イ 内陸の高原で、標高は約2,000mある。その南側には山脈があるが、北側は開けている。

ウ 海沿いの平らな場所で、標高は0mに近い。その周囲は南も北も山脈に囲まれている。

エ 海沿いの平らな場所で、標高は0mに近い。その南側には山脈があるが、北側は開けている。

(2) 次の【資料1】の空欄①から④にあてはまる語句の組み合わせとして正しいものを、あとのアからエまでの中から1つ選び、記号で答えなさい。

【資料1】 6都道府県の特徴となる工業の分野とその分野が発展した理由

都道府県	特色となる工業分野	その分野が発展した理由
北海道	食品製造業	農業がさかんであるため
	木製品製造業	森林面積が多いため
東京	( ① )	流行の発信地であるため
京都	( ② )	伝統工芸品として人気があるため
大阪	( ③ )	機械の部品を作る中小企業が多いため
岡山	( ④ )	海が深すぎず、海沿いに工場用地を作りやすいため
沖縄	食品製造業	農業がさかんであるため
	陶磁器産業	伝統工芸品として人気があるため

	①	②	③	④
ア	印刷業	金属工業	繊維工業	石油化学工業
イ	印刷業	繊維工業	金属工業	石油化学工業
ウ	石油化学工業	金属工業	繊維工業	印刷工業
エ	石油化学工業	繊維工業	金属工業	印刷工業

(3) 次の表は、アメリカと中国からの訪問客数（のべ宿泊者数）を示している。表中のアからエには、北海道・東京・京都・沖縄のいずれかがあてはまる。【資料2】を参考にして、北海道に該当するものを、アからエまでの中から1つ選び、記号で答えなさい。

都道府県	アメリカからの訪問客	中国からの訪問客	合計
ア	7,168,200 人	8,447,000 人	15,615,200 人
イ	2,036,900 人	2,725,700 人	4,762,600 人
ウ	370,300 人	1,279,600 人	1,649,900 人
エ	568,100 人	388,600 人	956,700 人

(JNTO の統計資料より作成)

【資料2】 上記の表から読み取れることを生徒がまとめたメモ

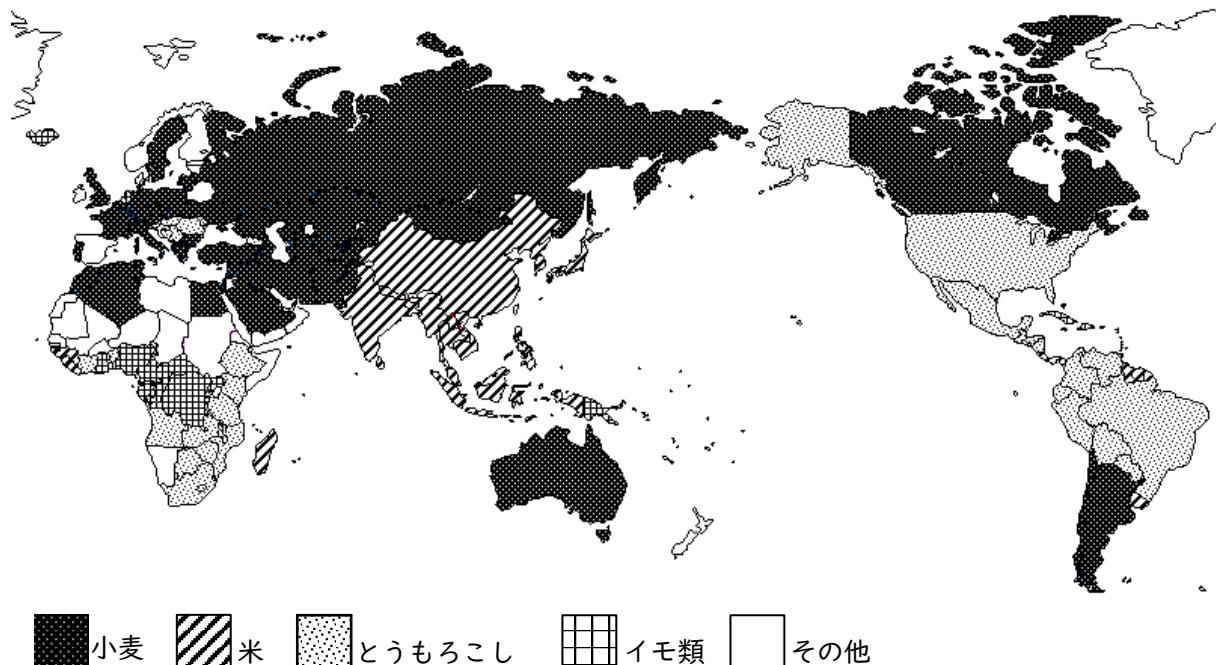
- ・より大きな都市圏がある都道府県ほど、訪れる外国人客も多い。サービス業が充実しており、交通手段が多い大都市圏には、観光や仕事で訪れた外国人も集まることがわかる。
- ・大きな傾向として、リゾート地で日本の自然を楽しむよりも、街歩き、ショッピング、食事などを通じて日本の文化を体験したいと考える外国人客が多いと思われる。アとイの訪問客数に注目すると、現代の文化も人気があり、必ずしも伝統的な日本文化が求められているのではないようだ。
- ・ウよりエの方がアメリカからの訪問客が多いのは、戦後しばらくの間、アメリカに統治されていて、アメリカとの関わりが深い場所だからだろう。



4 次の(1), (2)の問いに答えなさい。

(1) 次の【資料1】について、あとの①から③までの問いに答えなさい。

【資料1】世界の国ごとの栽培面積の最も広い主食用作物(2004年)



(FAOSTAT の統計資料より作成)

①ヨーロッパは小麦の栽培がさかんな地域である。ヨーロッパの小麦の栽培方法の特徴として最も適当なものを、下のアからエまでの中から選び、記号で答えなさい。

- ア 豚や牛などの家畜を飼育しながら、同時に小麦を栽培している。
- イ 人工的に河川の水を農地へ引き、小麦を年に2回作る二期作を行っている。
- ウ 樹木を焼いた灰を肥料にして、定期的に農地を変えながら小麦を栽培している。
- エ 大部分の農場が国営であり、複数の農家が共同作業によって小麦を栽培している。

②【資料Ⅰ】から読み取れる内容として最も適当なものを，下のアからエまでの中から選び，記号で答えなさい。

- ア 三大穀物は生産量が多く，希少価値が少ない。そのため先進国で，三大穀物の栽培面積が最も広い国はほとんどない。
- イ 米は栽培するために水田を必要とする。そのため米の栽培面積が最も広い国は，原産地である東南アジアの周辺に集中している。
- ウ 小麦は米やとうもろこしに比べて暑さに弱い。そのため熱帯や乾燥帯に属する国で，小麦の栽培面積が最も広い国はほとんどない。
- エ とうもろこしは小麦や米よりかなり遅れてヨーロッパ人に発見され，世界に広まった。そのためとうもろこしの栽培面積が最も広い国は，アメリカ大陸やオーストラリア大陸，アフリカ大陸などのヨーロッパからの移民がつくった国に集中している。

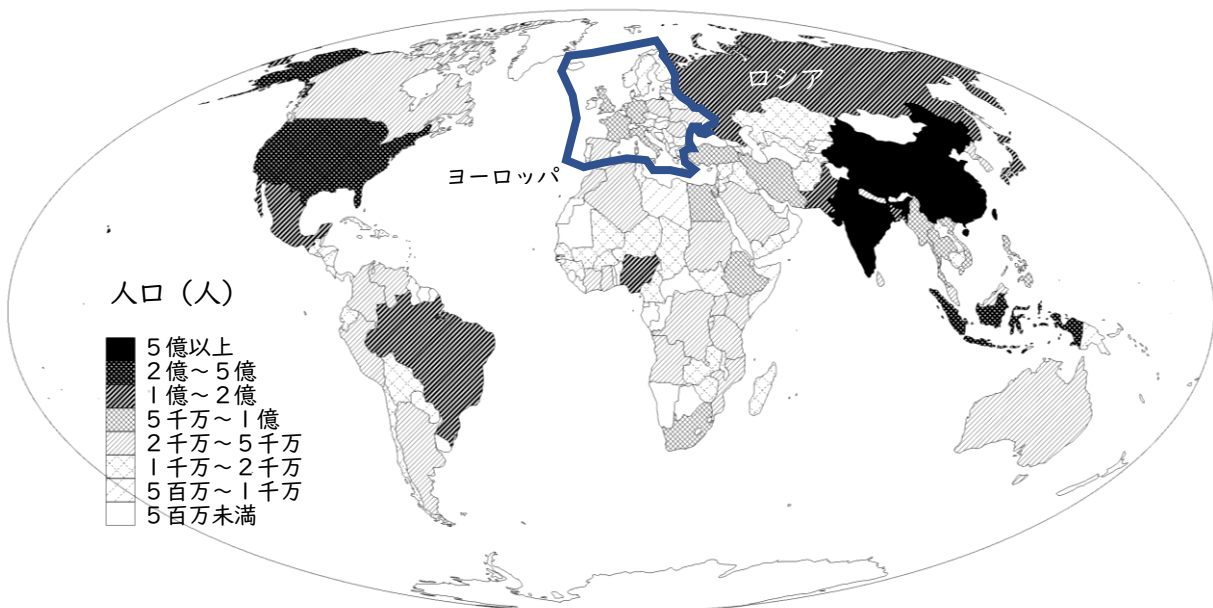
③イモ類は三大穀物と比べて，やせた土地や，高温・低温になる環境でも栽培できる。それはなぜか。次の説明文の空欄にあてはまる言葉を書きなさい。

三大穀物は実を食べるが，イモ類は根や茎を食べる。そして，この根や茎は，実とは異なり（ ）で成長する。そのため気温の影響を受けにくく，また植物の生育に役立つ微生物を利用して，やせた土地でも成長することができる。
--

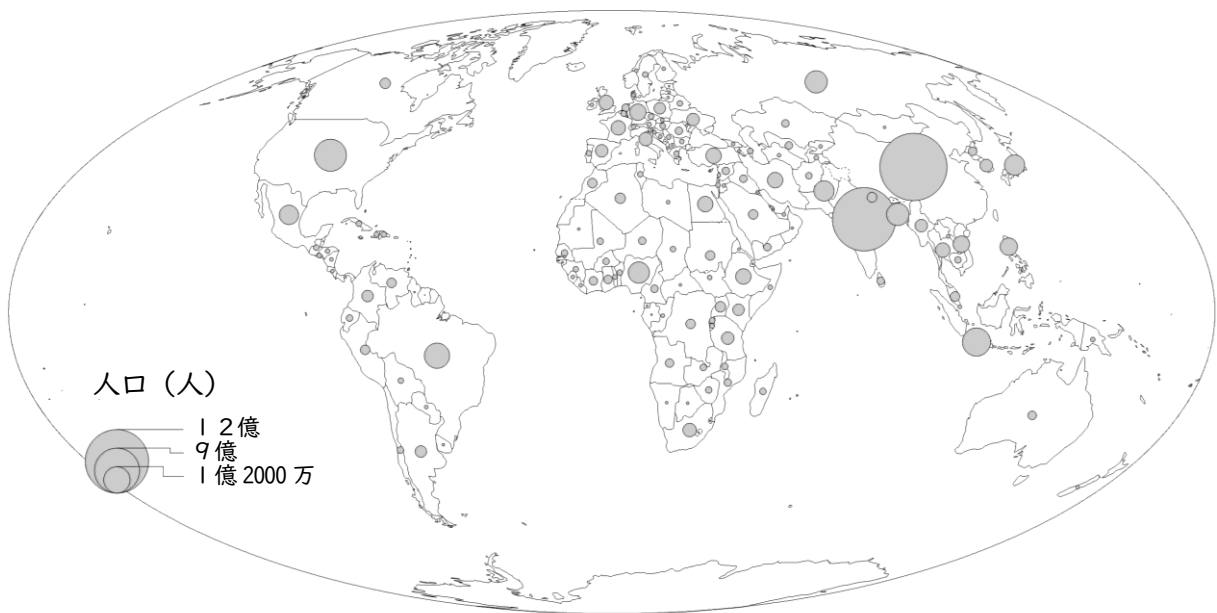
(2) 次の先生と生徒の会話文と【資料2】、【資料3】について、あとの①、②の問いに答えなさい。

先生：世界各国の人口を表した2つの地図について、どちらの方が良い地図だと思いますか。  
生徒：地図に良い悪いがあるなんて、考えたこともありません…  
先生：まず【資料2】の地図を見てみましょう。「ロシア」と「ロシアを除くヨーロッパ全体」で人口を比べた場合、どちらが多く見えますか。  
生徒：なんとなく、色が濃くて大きいロシアの人口が多いような印象です。  
先生：では、次に【資料3】の地図を見てみましょう。同じように人口を比べてみるとどうですか。  
生徒：あれ、こちらの地図だと、ロシアの方が人口が少なく見えます。  
先生：そうですね。実際はどちらが正しいのでしょうか。  
生徒：ロシア一国と、ロシアを除くヨーロッパ全体では、さすがにロシアの人口の方が少ないのではないのでしょうか。  
先生：その通り。ロシアの人口は、約1億4600万人、ロシアを除くヨーロッパ全体の人口は、約6億人です。  
生徒：そんなに違うんですね。でも、【資料2】では全くそのようには見えません。  
先生：このように、【資料2】の地図では実際より（ A ）ことがあるため、【資料3】の方が良い地図といえるでしょうね。  
生徒：わかりました。これから授業で地図を作る場合は、【資料2】のような表し方をしない方がいいですね。  
先生：いや、必ずしもそうとは限りません。たとえば人口ではなく人口密度の場合は、むしろ【資料2】のように数値の大小を色の濃さで表す方が適しています。表したいものによって、どう表せばよいのかよく考えることが大事ですね。

【資料2】世界各国の人口（2016年）を模様の濃さで表した地図



【資料3】世界各国の人口（2016年）を○の大きさに表した地図



①空欄Aにあてはまる言葉として最も適当なものを，下のアからエまでのの中から選び，記号で答えなさい。

- ア 人口の多い国の面積が広く見えたり，人口の少ない国の面積が狭く見えたりする。
- イ 人口の多い国の面積が狭く見えたり，人口の少ない国の面積が広く見えたりする。
- ウ 面積の広い国の人口が多く見えたり，面積の狭い国の人口が少なく見えたりする。
- エ 面積の広い国の人口が少なく見えたり，面積の狭い国の人口が多く見えたりする。

②地図で表すとき，人口密度と同じように模様の濃さで表すのが最も適当なものを，下のアからエまでのの中から選び，記号で答えなさい。

- |                   |                    |
|-------------------|--------------------|
| ア 各国で飼育されている乳牛の頭数 | イ 各国に埋蔵されている石油の量   |
| ウ 各国の工業製品出荷額      | エ 各国の国土面積に占める森林の割合 |

5 次の生徒2人と先生の会話文について、あとの(1)から(4)までの問いに答えなさい。

生徒X：昨年は、アメリカのトランプ<sup>ア</sup>大統領が行う政策やその発言が、世界中から注目を集めました。特に<sup>イ</sup>関税の引き上げの宣言は、多くの国に影響を与え、日本でも、連日ニュースで取り上げられていました。

先生：そうですね。トランプ大統領の来日も話題になりましたね。

生徒Y：私は、アメリカによるイラン核施設への空爆のニュースにとっても驚きました。

先生：そうですね。アメリカは空爆を「イランの核の脅威を取り除くために行ったことで、正しかった。」と主張していますが、「<sup>エ</sup>国際連合憲章や国際法に違反する行為だ。」として、批判する国もあります。

生徒X：昨年は参議院議員選挙もありました。ニュースで、「物価高対策のためには減税か、給付か。」や、「<sup>ウ</sup>社会保険料を引き下げるべきか。」という話をよく耳にしました。選挙でもそういう話題が争点になったのですか。

先生：争点として注目した人も多かったでしょう。少子高齢化が進む中で、税金や社会保険料をどのように負担し合うかは、とても重要な政治のテーマです。今日は、このような2025年の動きについて、資料を見ながら考えていきましょう。

(1) 下線部Aについて、アメリカの大統領制と日本の議院内閣制を比較した場合の共通点や相違点を述べた文として最も適当なものを、下の<sup>ア</sup>から<sup>エ</sup>までの中から選び、記号で答えなさい。

- <sup>ア</sup> アメリカの大統領は、国家元首であり行政府の長であるが、日本では、天皇が国家元首であり、内閣総理大臣が行政府の長である。
- <sup>イ</sup> アメリカの大統領と日本の内閣総理大臣は、どちらも国民の直接選挙によって選ばれ、任期が4年で、再選が可能である。
- <sup>ウ</sup> アメリカの大統領と日本の内閣は、どちらも議会から不信任決議を受けた場合、総辞職するか、議会を解散しなければならない。
- <sup>エ</sup> アメリカの大統領は、議会に対して法律案を提出することができるが、日本の内閣は、法律案を提出することができない。

(2) 下線部Bについて、次の①、②の問いに答えなさい。

①関税の目的の説明文として最も適当なものを、下の<sup>ア</sup>から<sup>エ</sup>までの中から選び、記号で答えなさい。

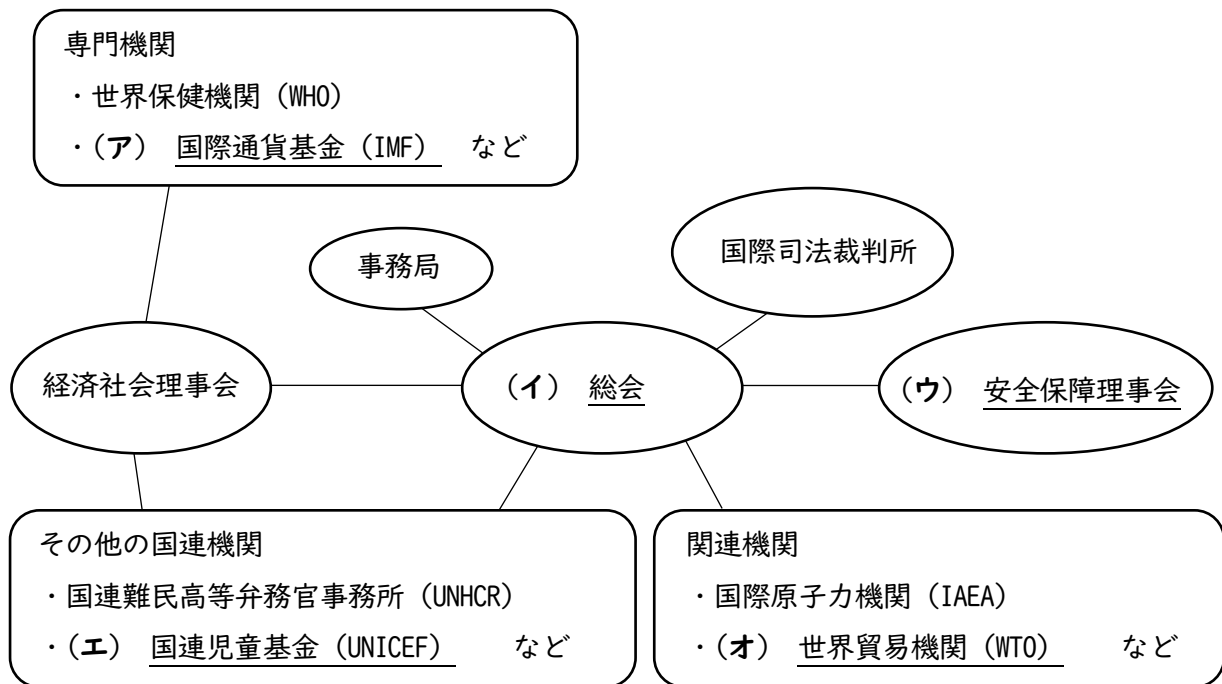
- <sup>ア</sup> 国内製品の価値を高めて、外国に輸出しやすくするため。
- <sup>イ</sup> 輸入品の価格を下げて、消費者の負担を軽くするため。
- <sup>ウ</sup> 外国の企業を優遇して、新たに工場を誘致するため。
- <sup>エ</sup> 国内の産業を保護しながら、政府の収入を得るため。

②日本の貿易相手国が、日本から輸出される自動車に高い関税をかけた場合、日本の自動車産業には大きな影響が出ます。このとき、日本の自動車産業の利益を守るために政府がとるべき対応策として適当でないものを、下のアからエまでの中から1つ選び、記号で答えなさい。

- ア 貿易相手国内に、生産の拠点を設けるための費用を支援する。
- イ 関税の引き下げを求めて、貿易相手国と外交交渉を進める。
- ウ 日本の消費者が輸入車を購入する際に補助金を交付して負担を減らす。
- エ 他の国や地域に新たな取引先を開拓するための調査費用を支援する。

(3) 下線部Cについて,【資料2】,【資料3】の話し合いが行われた機関を,【資料1】の(ア)から(オ)までの中からそれぞれ1つ選び,記号で答えなさい。

【資料1】国際連合の組織図



【資料2】国際連合の機関で話し合われた議題とその採決の結果1

議 題	ロシアのウクライナ侵攻を非難し,即時撤退を求める決議案(2022年2月)
賛 成	11票(米国,英国,フランス,アルバニアなど)
反 対	1票(ロシア)
棄 権	3票(中国,インド,アラブ首長国連邦)
結 果	決議案は否決

【資料3】国際連合の機関で話し合われた議題とその採決の結果2

議 題	核兵器廃絶決議案(2023年10月)
賛 成	148票(イギリス,米国など)
反 対	7票(中国,北朝鮮,ロシアなど)
棄 権	29票(フランス,アイルランド,オーストリア,マレーシアなど)
結 果	決議案は可決

(4) 下線部Dについて、次の①、②の問いに答えなさい。

①日本の社会保険制度に含まれないものを、下のアからエまでのの中から1つ選び、記号で答えなさい。

ア 年金保険

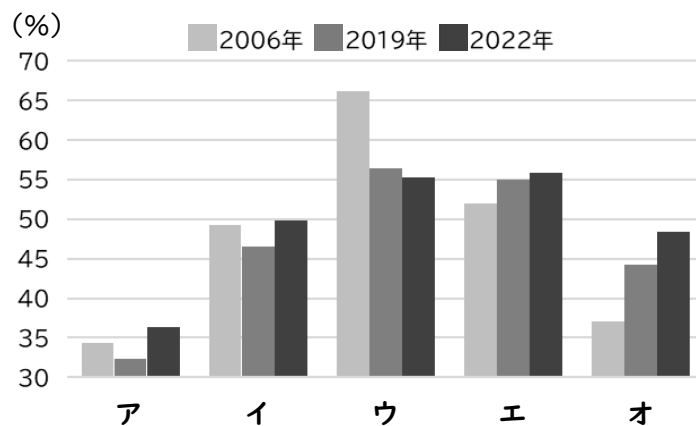
イ 健康保険

ウ 雇用保険

エ 火災保険

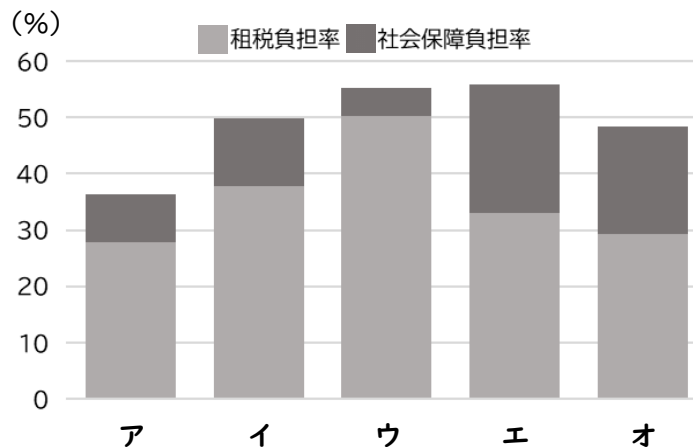
②次の【資料4】、【資料5】のアからオには、日本・イギリス・ドイツ・スウェーデン・アメリカ合衆国のいずれかがあてはまる。【資料6】を参考にして、イギリスに該当するものを、アからオまでのの中から1つ選び、記号で答えなさい。

【資料4】国民負担率



(財務省ホームページより作成)

【資料5】国民負担率に占める社会保障と租税の割合



(財務省ホームページより作成)

【資料6】上記の【資料4】、【資料5】から読み取れることを生徒がまとめたメモ

- ・日本とドイツの国民負担率は、年々増加しているが、日本と比べてドイツの社会保障負担率が高い。
- ・アメリカは、他国と比べて国民負担率が低いが、国民負担率に占める租税の割合が大きい。
- ・スウェーデンは、国民負担率は年々減少しているが、租税負担率が最も大きい。



6 次の【資料1】から【資料3】について、あとの(1),(2)の問いに答えなさい。

【資料1】北海道などで行われている実証実験についての説明

電力会社とスマートフォンのアプリ制作会社が協力して提供するゲームアプリを通じて、一般の人が電柱を撮影し、その画像をもとに電力会社が点検や補修を行っている。

【資料2】ゲームアプリの紹介画像1



(ピクトレホームページより)

【資料3】ゲームアプリの紹介画像2



(ピクトレホームページより)

(1)【資料1】の実証実験のねらいとして最も適当なものを、下のアからエまでの中から選び、記号で答えなさい。

- ア 電柱をなくして電線を地下に設置し、歩道の安全確保や景観を改善すること。
- イ 個人の位置情報を収集し、新しい商業施設の建設に最適な場所を見つけること。
- ウ スマートフォンのカメラ機能をテストし、他社の性能と比較して改善すること。
- エ 人手不足の中でも点検作業を効率化し、電柱の異常を早期に発見すること。

(2)【資料2】、【資料3】のように、ゲームの仕組みを利用して人々の意欲を高め、課題の解決につなげる方法と共通する事例として最も適当なものを、下のアからエまでの中から選び、記号で答えなさい。

- ア コンビニエンスストアが、新発売のスイーツ商品をインフルエンサーに試食してレポートしてもらい、SNSで発信して告知すること。
- イ 回転寿司チェーンで、食べ終わった皿を、客が回収口に5皿入れると1回くじ引きができ、当たりが出ると景品がもらえること。
- ウ 歴史的建造物の補修工事費用をクラウドファンディングで集め、一定額を提供した支援者には、非公開の展示品を見学できる特典を与えること。
- エ 観光協会が地域の名所をパンフレットにまとめるだけでなく、QRコードからアクセスできる特設サイトに詳しい情報を掲載して紹介すること。